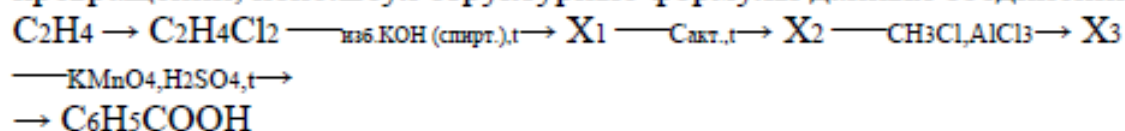


**Интернет олимпиада РИТМ-МИЭТ по химии
весна 2018
Заключительный тур**

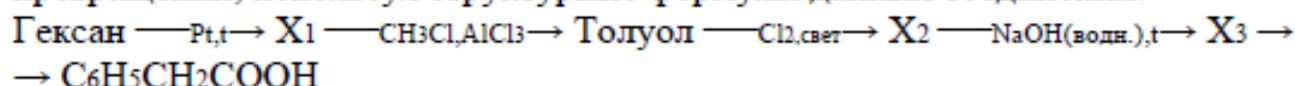
Задание 1.

Напишите уравнения химических реакций для осуществления следующих превращений, используя структурные формулы данных соединений:



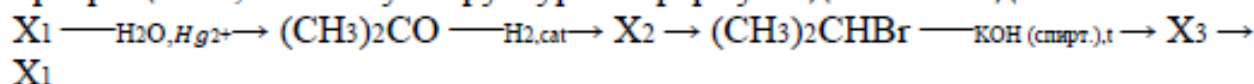
Задание 2.

Напишите уравнения химических реакций для осуществления следующих превращений, используя структурные формулы данных соединений:



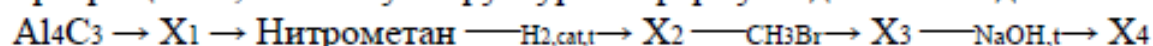
Задание 3.

Напишите уравнения химических реакций для осуществления следующих превращений, используя структурные формулы данных соединений:



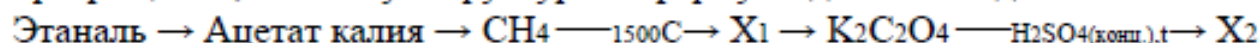
Задание 4.

Напишите уравнения химических реакций для осуществления следующих превращений, используя структурные формулы данных соединений:



Задание 5

Напишите уравнения химических реакций для осуществления следующих превращений, используя структурные формулы данных соединений:



Задание 6.

Напишите уравнения химических реакций для осуществления следующих превращений, используя структурные формулы данных соединений:

